

به نام خدا

ارزشیابی ریاضی

دبستان ترنج دانش

نام :

پایه دوم-ترم پایانی خردادماه(۱۴۰۰)

آموزگار: خانم گرامی

نام خانوادگی :

۱- پاسخ صحیح را با علامت (X) داخل مشخص کنید.

درست نادرست

❖ یک هشت ضلعی ۸ ضلع و گوشه دارد.

درست نادرست

❖ با رقم های ۳ و ۶ می توان دو عدد ساخت.

درست نادرست

❖ یک ربع همان ۱۵ دقیقه است.

درست نادرست

❖ عدد ۴۸ به ۴۰ نزدیک تر است.

درست نادرست

❖ عدد ۱۴۵ زوج است.

درست نادرست

❖ ده سکه ی ۱۰ ریالی برابر است با یک سکه ی صد ریالی.

درست نادرست

❖ در مستطیل همه ی ضلع ها با هم برابر است.

درست نادرست

❖ دو دسته ی ۳ تایی برابر است با ۹ تا

درست نادرست

❖ مثلث تقارن ۴ قسمتی دارد.

۲- در جای خالی عدد یا عبارت مناسب بنویس.

- در شکل های چند ضلعی به تعداد ضلع ها داریم.

- ۷ دسته ی ده تایی منهای ۳ دسته ی ده تایی می شود

- کوچکترین عدد سه رقمی می باشد.

- ۱ سانتی متر همان میلی متر است.

- ۴۵ میلی متر برابر است با سانتی متر و میلی متر.

- در دایره تعداد ضلع ها و تعداد گوشه ها می باشد.

۳- با سه کارت ۲ و ۱ و ۷ چند عدد سه رقمی می توان نوشت؟ عددها را نوشته و دور عددهای فرد

خط بسته بکشید.

۴- علامت < = > بگذار.

$$۲۲ \square ۱۰+۱+۱+۳+۲$$

$$۲۵۶ \square ۲۶۵$$

$$۳۷ \square ۳۶+۱$$

$$\underline{+۴۸}$$

۵- در شمارش ده تا ده تا هر عدد بین چه اعدادی قرار می گیرد و به کدام عدد نزدیک تر است؟

— ۶۱ بین و و به نزدیک تر است.

— ۹۸ بین و و به نزدیک تر است.

۶- جمع و تفریق های زیر را انجام دهی

به روش فرآیندی

به روش فرآیندی

به روش انتقالی

به روش انتقالی

$$۲۵۱$$

$$۸۷۸$$

$$۴۷۱$$

$$۷۱۵$$

$$\underline{+۴۳۸}$$

$$\underline{-۳۲۴}$$

$$\underline{+۳۹۹}$$

$$\underline{-۲۹۸}$$

جزوه سیتی

۷- عددی را پیدا کنید که اگر با ۴۶ جمع کنیم جواب ۷۸ می شود. (از هر روشی که دوست دارید پاسخ دهید.)

$$\square + ۴۶ = ۷۸$$

۸- ملیکا ۲۵۰ صفحه از یک کتاب را خوانده است. اگر کتاب ۴۳۰ صفحه داشته باشد. چند صفحه از کتاب باقی مانده است؟

۹- سپیده ۶ سال داشت که برادرش به دنیا آمد. حالا از آن زمان ۵ سال می گذرد. این خواهر و برادر


روی هم چند سال دارند؟

الف) برادر سپیده چندسال دارد؟

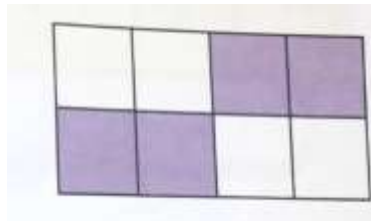
ب) سپیده چند سال دارد؟

ج) این دونفر چندسال دارند؟

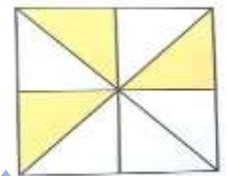
۱۰- جمله ها را با نوشتن عدد مناسب کامل کنید و نشان دهید چه بخشی از شکل رنگ شده است.



.....قسمت ازقسمت




.....قسمت ازقسمت



.....قسمت ازقسمت

جزوه سسی



.....قسمت ازقسمت

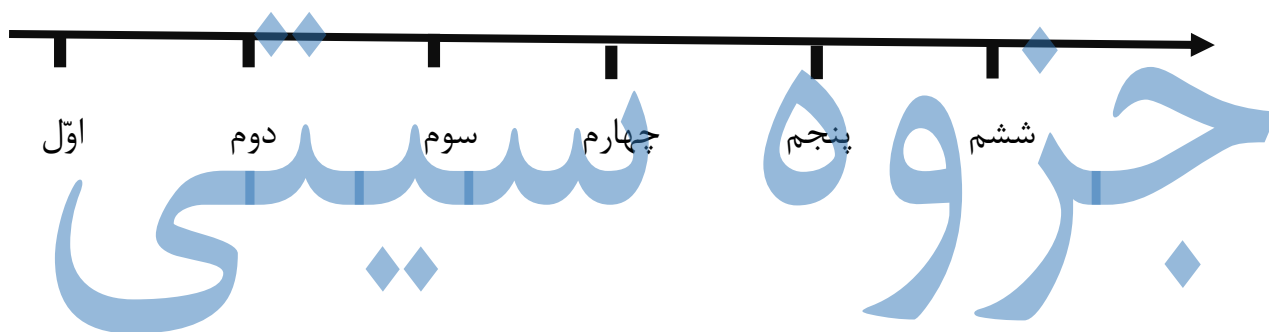


.....قسمت ازقسمت

۱۱- در یک دبستان تعداد دانش آموزان کلاس اول تا ششم به صورت زیر است:

| کلاس | اول | دوم | سوم | چهارم | پنجم | ششم |
|-------------------|-----|-----|-----|-------|------|-----|
| تعداد دانش آموزان | ۷۳ | ۵۶ | ۴۸ | ۳۳ | ۶۱ | ۴۴ |
| تعداد تقریبی | | | | | | |

ابتدا تعداد تقریبی دانش آموزان را در جدول بنویسید و سپس هر ۱۰ دانش آموز را با 😊 نشان دهید و نمودار زیر را کامل کنید.



دخترهای نازنین موفق باشید.

گرامی